

Шифр участника 501

ЗАДАНИЯ ДЛЯ ОБУЧАЮЩИХСЯ

65

**Время выполнения заданий олимпиады – 60 мин.
Максимальное количество баллов – 100**

Инструкция по выполнению заданий

Олимпиада по праву состоит из 10 заданий. Советуем выполнять задания в том порядке, в котором они даны. Для экономии времени пропускайте задание, которое не удастся выполнить сразу, и переходите к следующему. Если после выполнения всей работы у вас останется время, то можно вернуться к пропущенным заданиям. Баллы, полученные вами за все выполненные задания, суммируются. Постарайтесь выполнить как можно больше заданий и набрать максимально возможное количество баллов.

Желаем успеха!

Задание 1. Выберите один правильный из предложенных вариантов ответа.
Всего за задание – 10 баллов. Правильный ответ на каждое задание оценивается в два балла. При этом правильным ответом признается только полный ответ на задание, который состоит из одного верного варианта ответа. Любой другой ответ оценивается в ноль баллов.

1.1. Когда была принята Конвенция о правах ребенка?

- а) в 1948 г.;
- б) в 1989 г.;
- в) в 1993 г.

1.2. Какая международная организация играет решающую роль в защите прав человека?

- а) ПЕН-клуб;
- б) ООН;
- в) ЮНЕСКО.

1.3. Кто признается ребенком в соответствии с Конвенцией о правах ребенка?

- а) лицо до 18 лет;
- б) лицо до 14 лет;
- в) лицо до 16 лет.

Шифр участника 2501

1.4. Как называется должность человека, избранного Государственной Думой для содействия тем, чьи права нарушены?

- а) магистр;
- б) председатель союза правозащитников;
- в) уполномоченный по делам человека.

1.5. С какого возраста наступает уголовная ответственность несовершеннолетних за преступления, оговоренные в Уголовном кодексе?

- а) с 14 лет;
- б) с 16 лет;
- в) с 18 лет.

Внесите ответы на задания №1.1 - № 1.5 в таблицу:

1.	2.	3.	4.	5.
в	в	б	б	а

Задание 2. Задания по работе с правовыми понятиями.

Перед вами даны определения понятий, напишите данные понятия.

Всего за задание – 10 баллов. За каждый верный ответ 2 балла.

- 1. Документ, который удостоверяет личность? паспорт +
- 2. Как называется основной Закон государства? Конституция +
- 3. Житель нашего государства, который имеет права и выполняет обязанности. Гражданин +
- 4. Как называются правила, которые устанавливает государство? законы +
- 5. Как называют человека, любящего свою Родину? патриот +

Задание 3. Задание на установление соответствия.

Установите соответствие между термином и определением.

Всего за задание – 20 баллов. За каждый верный ответ 2 балла.

Шифр участника _____

Термины	Определение понятий
1. КОНСТИТУЦИЯ	А. -лицо, несущее ответственность за нарушенное право.
2. ОТВЕТЧИК	Б. -защитник обвиняемого.
3. ФИЗИЧЕСКОЕ ЛИЦО	В. - основной закон страны, обязательный для исполнения всеми гражданами страны.
4. АМНИСТИЯ	Г. - человек, который может вступать в правоотношения.
5. АДВОКАТ	Д. - полное или частичное освобождение от наказания.
6. КОНВЕНЦИЯ	Е. - организация, вступающая в правоотношения.
7. ИСТЕЦ	Ё. - обвинитель.
8. ЮРИДИЧЕСКОЕ ЛИЦО	Ж. - международный договор, обязательный для исполнения теми государствами, которые его подписали.
9. АЛЛИМЕНТЫ	З.- средства на содержание каких-либо членов семьи (детей).
10.ПРОКУРОР	И.- лицо, обратившееся в суд за защитой нарушенного права.

4

Внесите ответы на задание №3 в таблицу:

1	2	3	4	5	6	7	8	9	10
ЖВ	И	Ё	БЖ	Б	ЖГ	А	Г	З	Е

- - - - + - - - + -

Задание 4. Задание на установление соответствия.

Установите соответствие между государственными праздниками России и датами, когда они отмечаются.

Всего за задание – 7 баллов. За каждый верный ответ 1 балл.

Государственный праздник России	Дата проведения
1) День защитника Отечества	А) 1 сентября
2) День народного единства	Б) 23 февраля
3) День России	В) 12 декабря
4) День знаний	Г) 1 мая

Шифр участника _____

5) Праздник Весны и Труда	Д) 9 мая
6) День Победы	Е) 12 июня
7) День Конституции	Ж) 4 ноября

Внесите ответы на задание №4 в таблицу:

1	2	3	4	5	6	7
Б	Ж	Е	А	Г	Д	В

Задание 5. Напишите последовательность цветов российского флага сверху
вниз.

Всего за задание (за полностью верный ответ) – 3 балла. Промежуточных баллов не предусмотрено.

Цвета: красный, синий, зелёный, жёлтый, чёрный, белый, коричневый.

Ответ: белый синий красный

Задание 6. Установите истинность или ложность суждений.

Всего за задание – 5 баллов. За каждый верный ответ 1 балл.

1) Иное название прокуратуры – следственный комитет.

2) Человек может заключить трудовой договор с животным, например, цирковым медведем.

3) Для занятия должности нотариуса обязательно требуется высшее юридическое образование.

4) Посещение школы искусств является обязанностью каждого ребёнка.

5) Россия является членом Организации Объединённых Наций.

Внесите ответы на задание №6 в таблицу:

Ответ	1	2	3	4	5
Истина или ложь					

Шифр участника _____

Задание 7. Установите соответствие между отрывком из детской песни и правом, о котором идёт речь в этом отрывке.

Всего за задание – 10 баллов. За каждый верный ответ 2 балла.

Отрывок из детской песни	Право
<p>А) Буквы разные писать Тонким пёрышком в тетрадь Учат в школе, учат в школе, учат в школе</p>	1) Право на труд
<p>Б) Антошка, Антошка, Пойдём копать картошку</p>	2) Право на свободу передвижения
<p>В) Я на солнышке лежу, Я на солнышко гляжу, Всё лежу и лежу И на солнышко гляжу</p>	3) Право на образование
<p>Г) Ничего на свете лучше нету, Чем бродить друзьям по белу свету, Тем, кто дружен, не страшны тревоги, Нам любые дороги дороги.</p>	4) Право на жизнь
<p>Д) В траве сидел кузнечик, Совсем как огуречик, ... Он ел одну лишь травку, Не трогал и козявку И с мухами дружил. Но вот пришла лягушка Прожорливое брюшко И съела кузнеца</p>	5) Право на отдых

Внесите ответы на задание №7 в таблицу:

А	Б	В	Г	Д
9	1	5	2	4



+

10

Шифр участника _____

Задание 8. Отгадайте ребусы.*Всего за задание – 10 баллов. За каждый верный ответ 2 балла.**Если угаданы все ребусы правильно, дополнительно выставляется 2 балла и сумма баллов за данное задание становится 10.*

8.1




Я



8.2



8.3



8.4

Шифр участника _____

Ответы:

8.1 _____

8.2 _____

8.3 защит _____

8.4 крошурол _____

Т
+ 4

Задание 9. Рассмотрите иллюстрацию картины В. Перова «Тройка».

Всего за задание – 5 баллов.



В. Перов. «Тройка»

Выберите из предложенных статей Конвенции о правах ребёнка ту статью, которая нарушена. Ответ укажите цифрой.

1. право ребёнка на достойный уровень жизни
2. право на свободное выражение своего мнения
3. право на защиту от физического насилия, жестокого обращения
4. право на невмешательство в личную жизнь

Ответ: 3 _____

55

+

Шифр участника _____

Задание 10. Установите соответствие между описанием и названием сказки.

Всего за задание – 20 баллов. За каждый верный ответ 4 балла.

Если угаданы все сказки правильно и выстроена верная последовательность букв при оформлении ответа, то дополнительно выставляется 4 балла и сумма баллов за данное задание становится 20.

ОПИСАНИЕ СКАЗКИ	НАЗВАНИЕ СКАЗКИ
1. В этой сказке одна дама использует добрый поступок своего мужа для обогащения и повышения своего социального статуса, но впоследствии теряет всё из-за безмерной тяги к стяжательству	А «Гуси-лебеди»
2. В этой сказке женщина неопределённых лет замышляет похитить чужого ребёнка, используя для этого птиц	Б «Сказка о рыбаке и рыбке»
3. В этой сказке нарушено право героев спокойно жить в своих домах и чувствовать себя хозяевами	В «Красная Шапочка»
4. В этой сказке маленькую героиню преследовали неудачи. Несмотря на свободу передвижения, свободу слова и мысли, она подвергалась дискриминации, на её жизнь было совершено покушение, а её бабушка лишилась права на неприкосновенность жилища	Г «Три поросёнка»

1	2	3	4
Б	А	Г	В

↑ ↓ + +

20